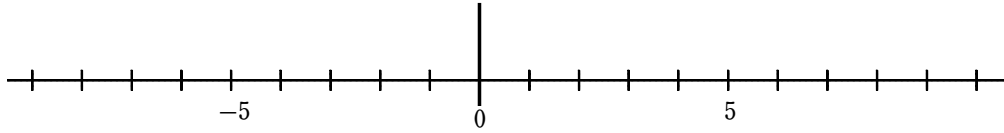


(C-4) 数直線を使って加法を計算する③

ねらい 数直線を使って、正負の数の加法を考えることができる。

【問題】 数直線を使って計算しなさい。

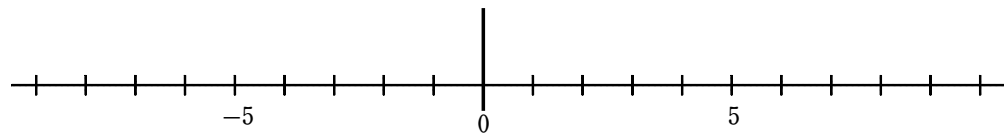
① $+2$ と $+6$ の和を求めなさい。



$$(+2) + (+6)$$

=

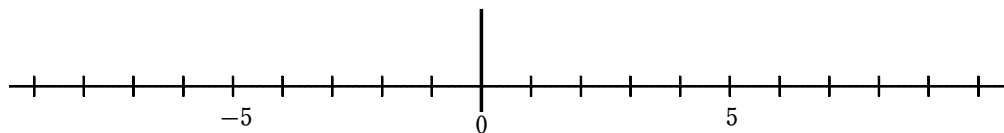
② -8 と $+3$ の和を求めなさい。



$$(-8) + (+3)$$

=

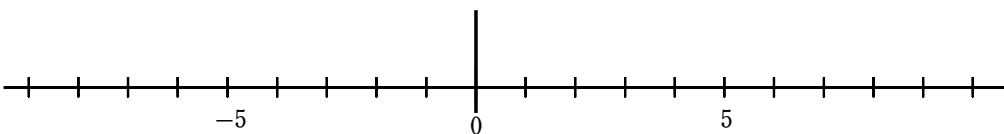
③ -4 と -4 の和を求めなさい。



$$(-4) + (-4)$$

=

④ $+4$ と -4 の和を求めなさい。



$$(+4) + (-4)$$

=