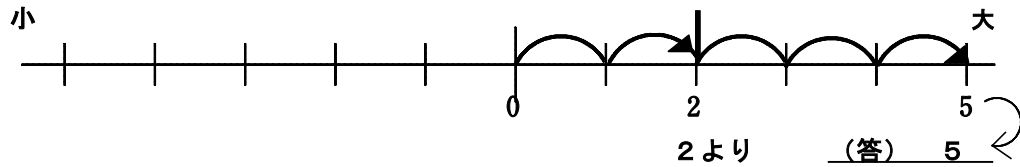


(B-5) ある数より大きい数、小さい数を求める

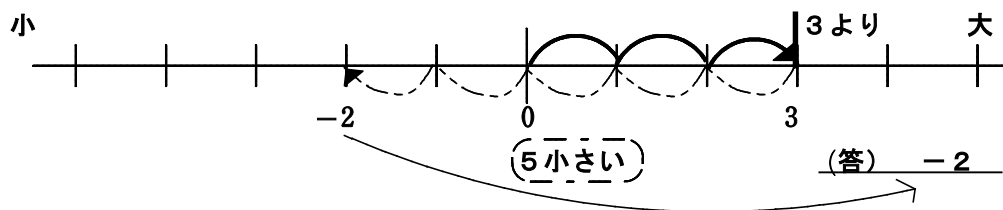
ねらい 数の大小や数直線の位置関係を用いて、ある数より大きい数、小さい数を求めることができる。

◆ 数直線を使って、次の数を求めなさい。

(ア) 2より3大きい数



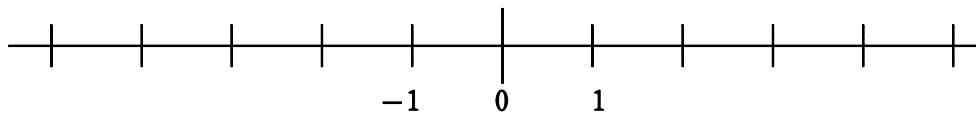
(イ) 3より5小さい数



【問題】 数直線を使って、次の数を求めなさい。

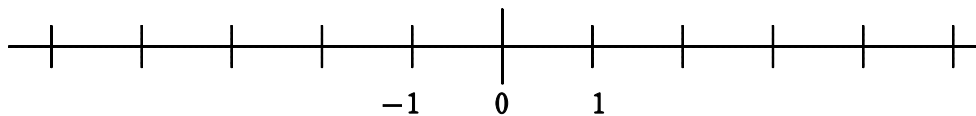
(数直線を必ず用いること)

① -2より5大きい数



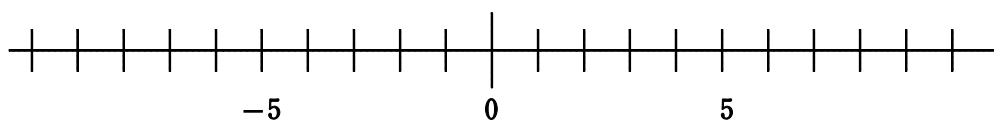
(答) _____

② 3より4小さい数



(答) _____

③ 2より10小さい数



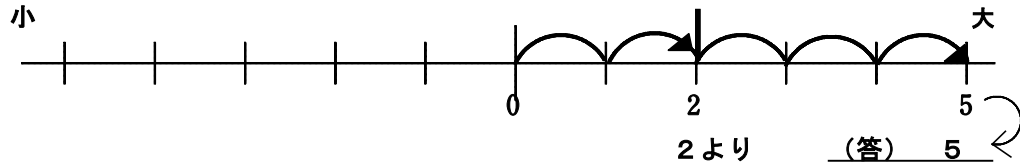
(答) _____

年 組 番 名前

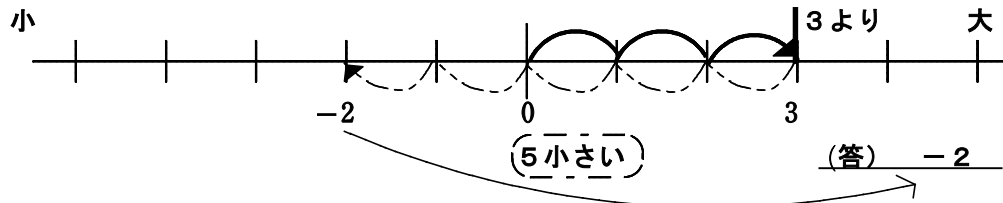
ねらい 数の大小や数直線の位置関係を用いて、ある数より大きい数、小さい数を求めることができる。

◆ 数直線を使って、次の数を求めなさい。

(ア) 2より3大きい数

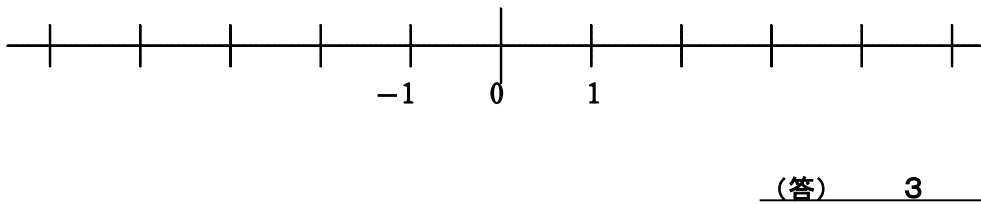


(イ) 3より5小さい数

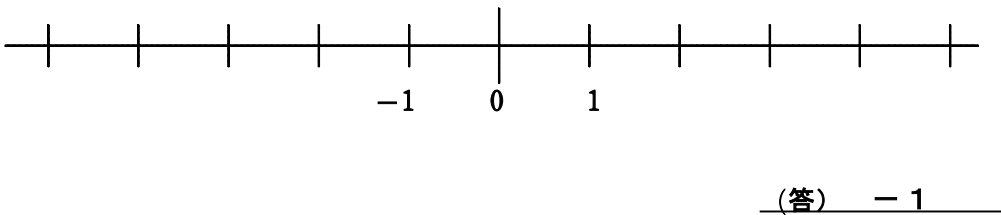


【問題】 数直線を使って、次の数を求めなさい。(数直線を必ず用いること)

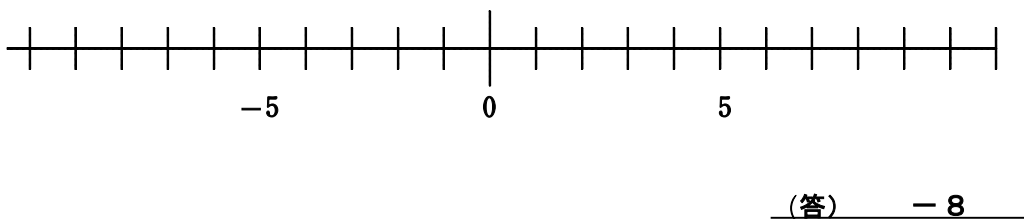
① -2より5大きい数



② 3より4小さい数



③ 2より10小さい数



年 組 番 名前

