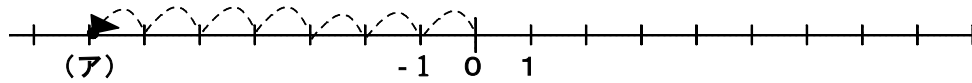
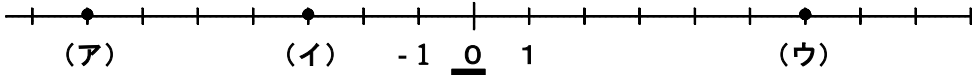


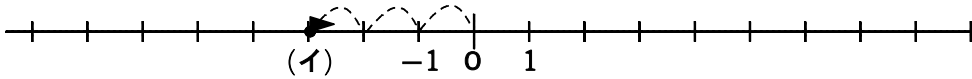
(B-2) 数直線上に数を表す

ねらい 数直線上に数を表すことができる。

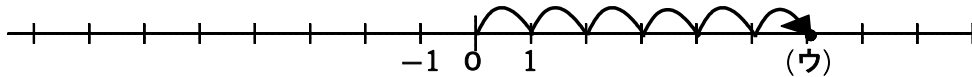
◆ 下の数直線上で、(ア)～(ウ)にあたる数をかきなさい。



* (ア) は0から左に7進んでいる



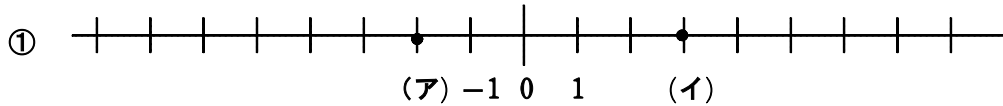
* (イ) は0から左に3進んでいる



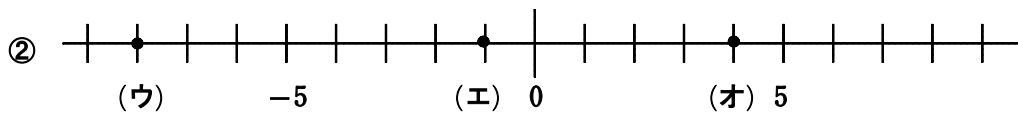
* (ウ) は0から右に6進んでいる

(ア)	-7	(イ)	-3	(ウ)	6
-----	----	-----	----	-----	---

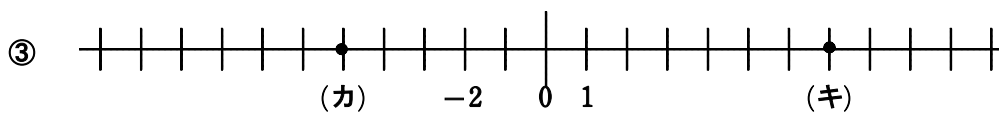
【問題】下の数直線上で、(ア)～(キ)にあたる数をかきなさい。



(ア)		(イ)	
-----	--	-----	--



(ウ)		(エ)		(オ)	
-----	--	-----	--	-----	--

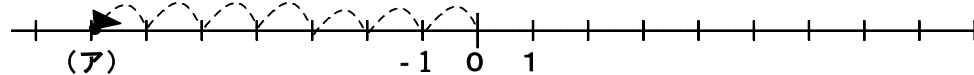
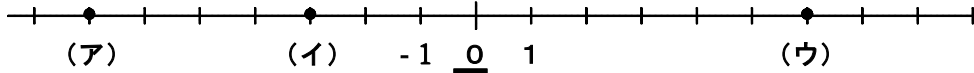


(カ)		(キ)	
-----	--	-----	--

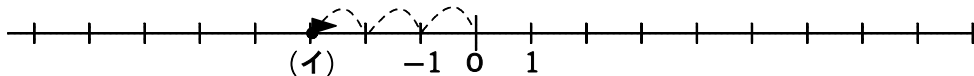
(B-2) 数直線上に数を表す

ねらい 数直線上に数を表すことができる。

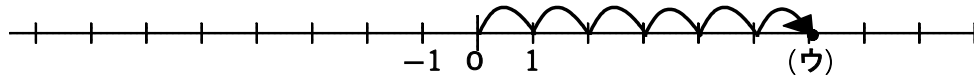
◆ 下の数直線上で、(ア)～(ウ)にあたる数をかきなさい。



* (ア) は0から左に7進んでいる



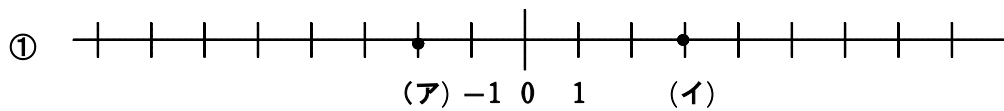
* (イ) は0から左に3進んでいる



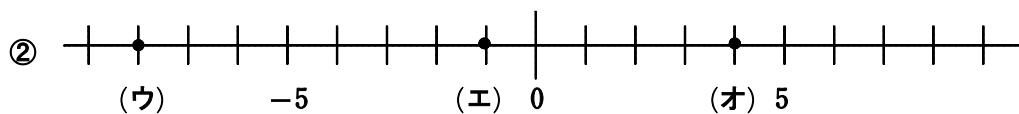
* (ウ) は0から右に6進んでいる

(ア)	-7	(イ)	-3	(ウ)	6
-----	----	-----	----	-----	---

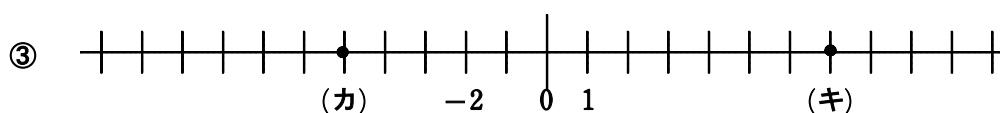
【問題】 下の数直線上で、(ア)～(キ)にあたる数をかきなさい。



(ア)	-2	(イ)	3
-----	----	-----	---



(ウ)	-8	(エ)	-1	(オ)	4
-----	----	-----	----	-----	---



(カ)	-5	(キ)	7
-----	----	-----	---