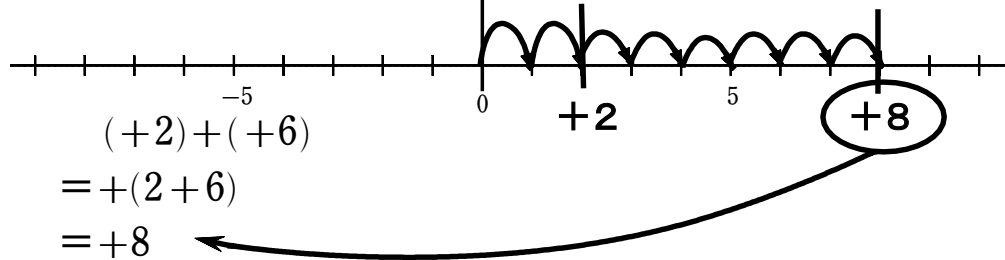


(C-4) 数直線を使って加法を計算する③

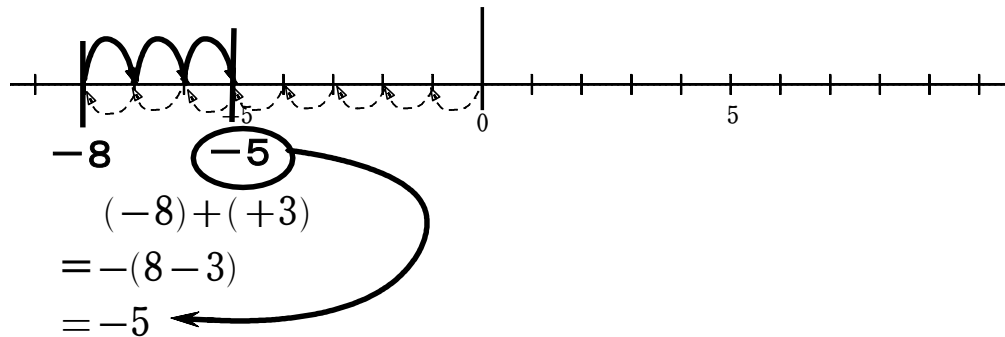
ねらい 数直線を使って、正負の数の加法を考えることができる。

【問題】 数直線を使って計算しなさい。

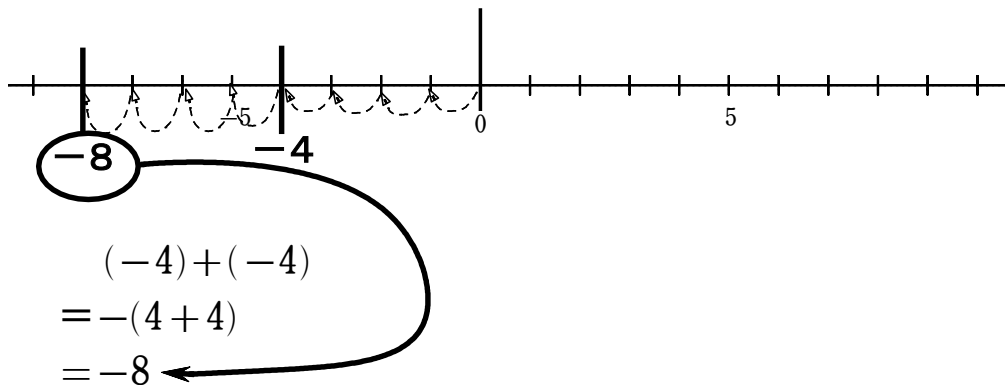
① +2と+6の和を求めなさい。



② -8と+3の和を求めなさい。



③ -4と-4の和を求めなさい。



④ +4と-4の和を求めなさい。

