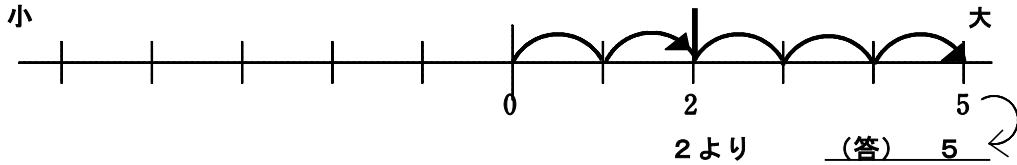


## (B-5) ある数より大きい数、小さい数を求める

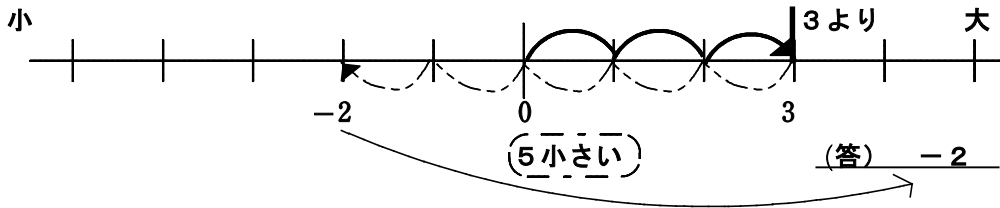
ねらい 数の大小や数直線の位置関係を用いて、ある数より大きい数、小さい数を求めることができる。

◆ 数直線を使って、次の数を求めなさい。

(ア) 2より3大きい数



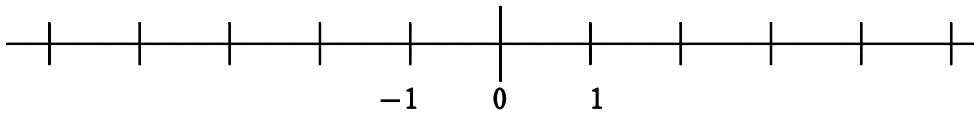
(イ) 3より5小さい数



【問題】 数直線を使って、次の数を求めなさい。

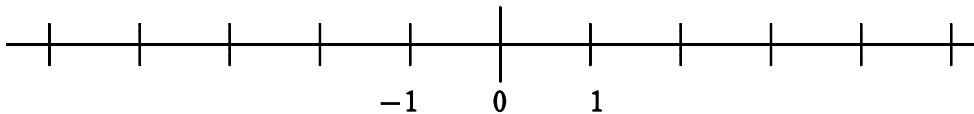
(数直線を必ず用いること)

① -2より5大きい数



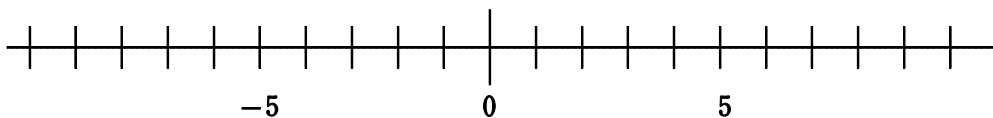
(答) 3

② 3より4小さい数



(答) -1

③ 2より10小さい数



(答) -8

年 組 番 名前