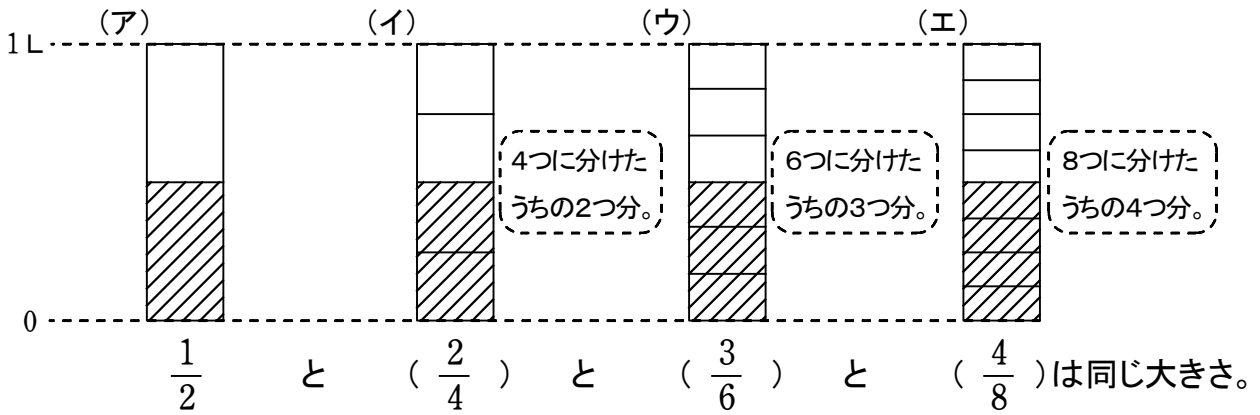


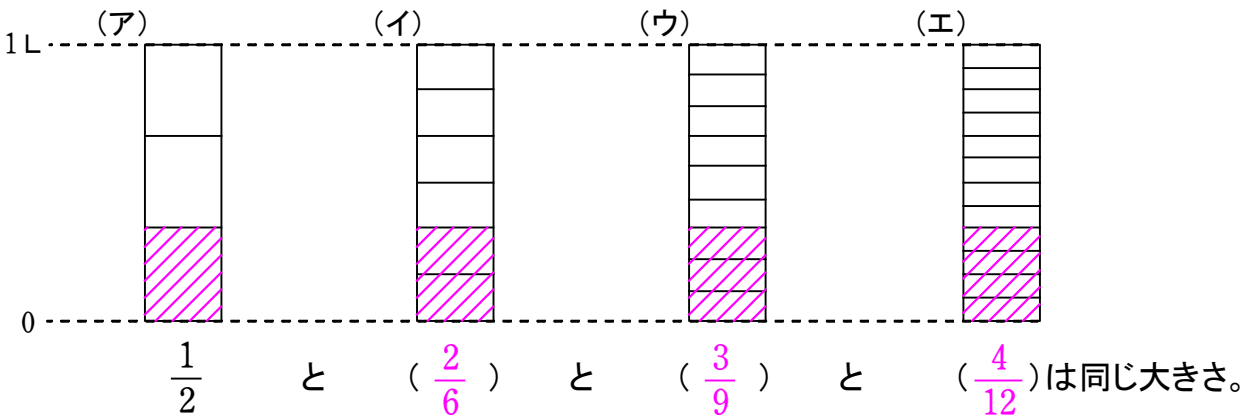
(B-1) 同じ大きさの分数 (解答)

ねらい 同じ大きさの分数を答えることができる。

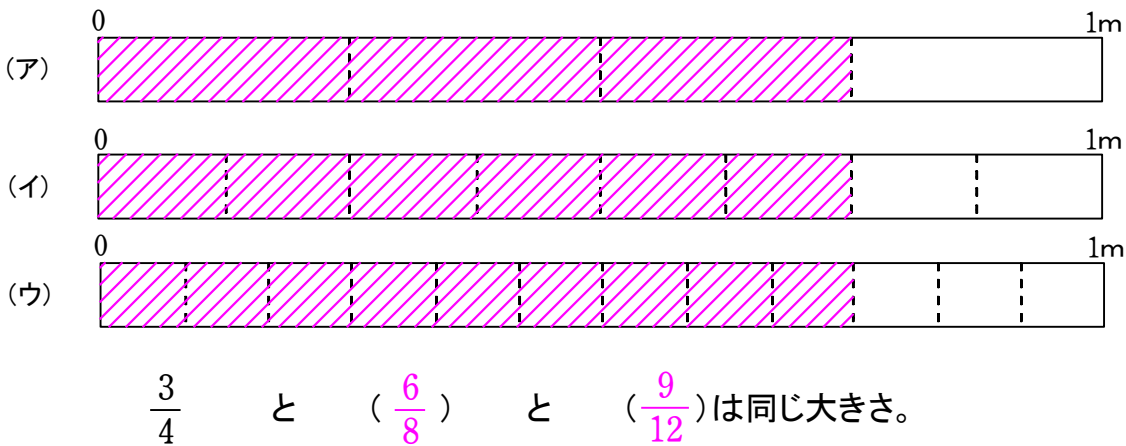
◆ 下の(ア)~(エ)のますの、 $\frac{1}{2}$ L のかさの部分にいろをぬりましょう。



【問題1】 下の(ア)~(エ)のますの、 $\frac{1}{3}$ L のかさの部分にいろをぬりましょう。



【問題2】 下の(ア)~(ウ)のテープの、 $\frac{3}{4}$ m の部分にいろをぬりましょう。



年 組 番 名前