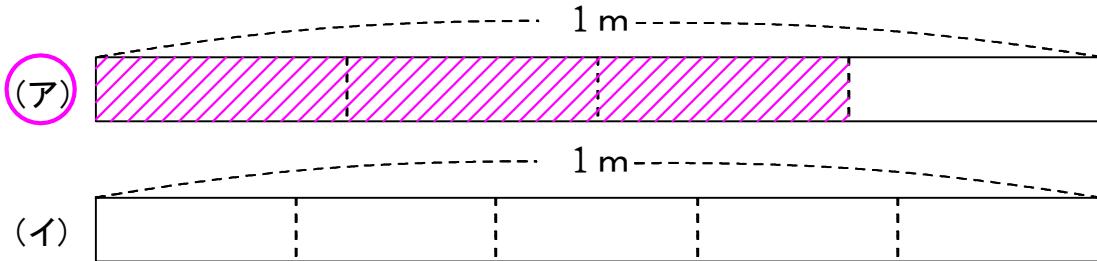


(A-3) 分数を使って表す(練習問題) (解答)

ねらい はしたの大きさを分数で表すことができる。

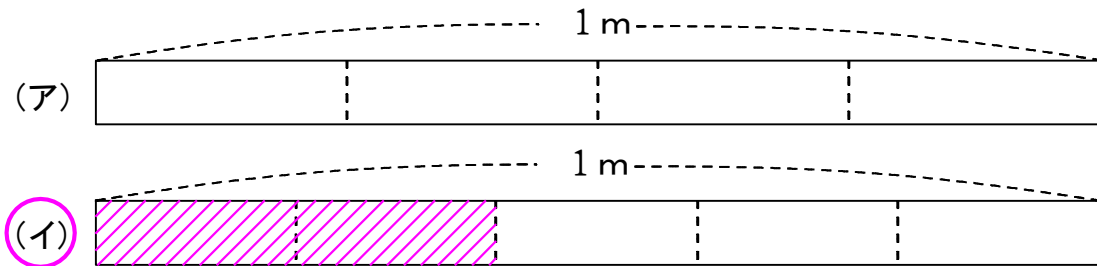
【問題1】 1mのテープの、 $\frac{3}{4}$ mの部分に色をぬります。

(ア)、(イ)のどちらのテープを使うかえらび、えらんだますに色をぬりましょう。



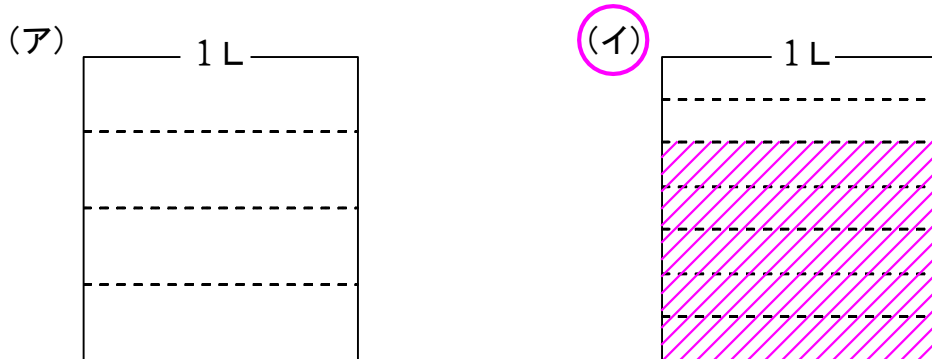
【問題2】 1mのテープの、 $\frac{2}{5}$ mの部分に色をぬります。

(ア)、(イ)のどちらのテープを使うかえらび、えらんだますに色をぬりましょう。



【問題3】 1Lのますの、 $\frac{5}{7}$ Lのかさの部分に色をぬります。

(ア)、(イ)どちらのますを使うかえらび、えらんだますに色をぬりましょう。



年 組 番 名前