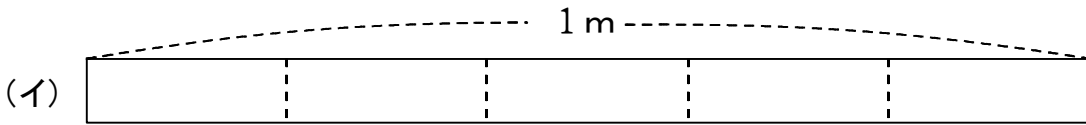
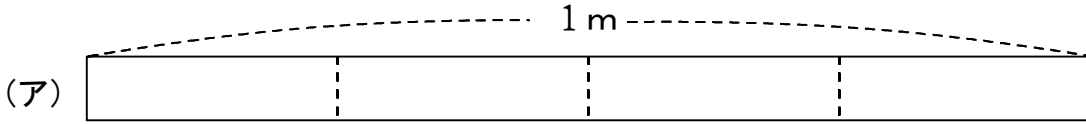


(A-2) 分数を使って表す② (解答)

ねらい はしたの大きさを分数で表すことができる。

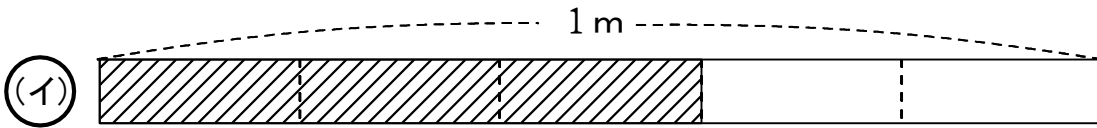
◆ 1m のテープの  $\frac{3}{5}$ m の部分に色をぬります。

(ア)、(イ)のどちらのテープを使うかえらび、えらんだますに色をぬりましょう。



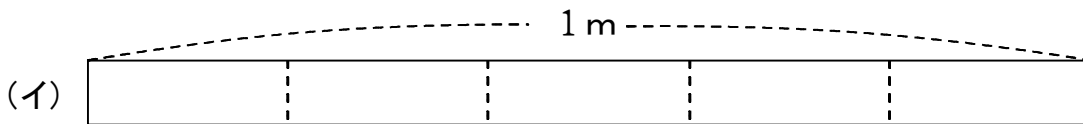
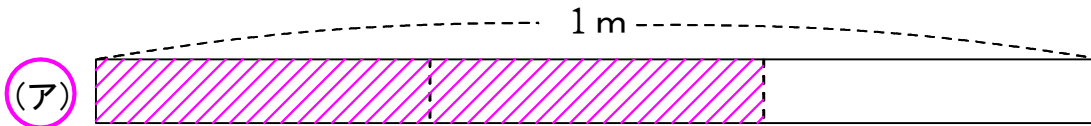
$\frac{3}{5}$ m だから、 $\frac{1}{5}$ m が3こ分だね。1m のテープを5つに分けているのは(イ)だから、

(イ)をえらび3つ分色をぬります。



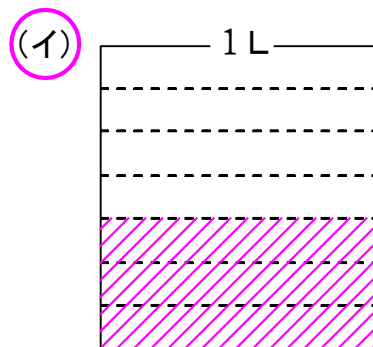
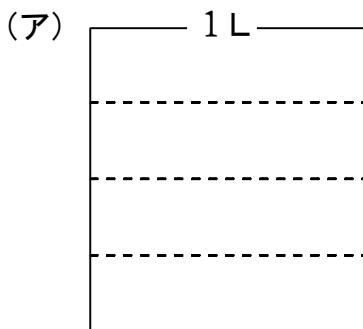
【問題1】 1m のテープの、 $\frac{2}{3}$ m の部分に色をぬります。

(ア)、(イ)のどちらのテープを使うかえらび、えらんだますに色をぬりましょう。



【問題2】 1Lのますの、 $\frac{3}{7}$ L のかさの部分に色をぬります。

(ア)、(イ)どちらのますを使うかえらび、えらんだますに色をぬりましょう。



年 組 番 名前